



4. (8 баллов) Решите уравнение:  $25(52 - x) = 625$




5. (15 баллов: 10 баллов за пункт а), 5 баллов за пункт б))


а) На клетчатой бумаге нарисована фигура. Сторона клетка равна 1 см. Найди площадь этой фигуры. Ответ дай в кв. см.



6) В отведенном поле постройте фигуру (не прямоугольник!), имеющую такую же площадь.  
(Считайте, что каждая клетка имеет площадь 1 кв.см)







6. (15 баллов) В новогодней гирлянде 21 лампочка. Лампочки идут в таком порядке: одна красная, две синих, три красных, четыре синих и так далее. Какого цвета семнадцатая лампочка?



7. (25 баллов: 15 баллов за первый вопрос, 10 баллов за второй)

На схеме зала кинотеатра отмечены разной штриховкой места с различной стоимостью билетов, а черным закрасены забронированные места на некоторый сеанс.



-  *забронированные места*
-  *250 рублей*
-  *300 рублей*



